

8. SINIF

SINAVDAN ÖNCE
ÇÖZÜLMESİ GEREKEN ALTIN SORULAR

TÜRKÇE - 2 (Muhakeme)

DAVUT GEZER

PAYLAŞIMLARIMIZDAN HABERDAR OLMAK İÇİN
FACEBOOK SAYFAMIZI TAKİP EDİN.

TAMAMEN ÜCRETSİZ
SINAV ÖNCESİ NARTEST HEDİYESİDİR!



NARTEST

Altın Nokta





TÜRKÇE

SINAVLA ÖĞRENCİ ALACAK ORTAÖĞRETİM KURUMLARINA İLİŞKİN DENEME SINAVI

2

Bu testte 20 soru vardır.
Cevaplarınızı, cevap kağıdına işaretleyiniz.


1 -2. soruları aşağıdaki bilgi metnine göre cevaplayınız.

SURAKARTA

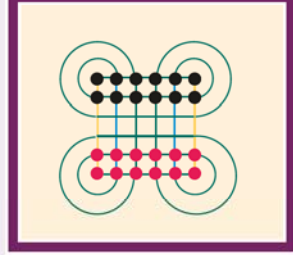
Surakarta Oyunu Nedir?

Surakarta oyunu, çok bilinmeyen Endonezya kökenli bir oyundur. Adını Endonezya'nın Java Adası'nda bulunan tarihi Surakarta şehriden almıştır. Surakarta oyunu her ne kadar Endonezya kökenli olsa da modern olarak ilk Fransa'da piyasaya sürülmüştür. 1970'li yıllardan itibaren popüleritesi artsa da ülkemizde hala yeteri kadar bilinmiyor. Fakat Millî Eğitim Bakanlığının akıl ve zeka oyunları dersi koymasından dolayı öğretmenler tarafından da bir miktar bilinir hale geldi. Çünkü harika bir zeka oyunu Surakarta.

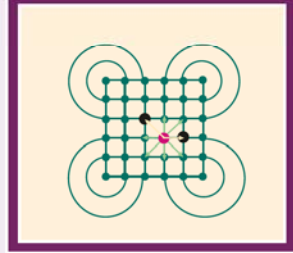
Surakarta oyununun oyun platformu biraz değişik. Klasik oyun platformları genelde 8x8'lik karelerden meydana gelir. Ama Surakarta oyununun tahtasında dairesel şekiller de vardır. Şekil 1



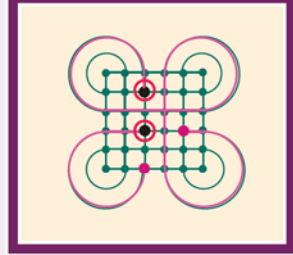
Surakarta oyununda her oyuncunun 12 taşı bulunur ve platformun en öndeki noktalarına dizilerek oyuna başlanır. Oyuna kimin başlayacağını belirlemek için yazı tura atılır ya da kura çekilir. Yani herhangi bir taşın diğer taş üstünlüğü yoktur. Şekil - 2



Oyuna başlayan oyuncu taşını tek birim olmak kaydıyla yatay, dikey ya da çapraz olarak hareket ettirebilir. Rakip oyuncunun ya da kendi taşının üzerinden atlayamaz. Bu tarz hamlelerle rakibin taşı da yenemez. Mesela görseldeki kırmızı taş okla gösterilen yerlere oynayabilir. Fakat sarı okla gösterilen yerler dolu olduğu için sadece yeşil okla gösterilen yerlere gidebilir. Şekil 3



Rakibin taşını yemek için daireler kullanılır. Dairede en az tam bir tur attıktan sonra rakibin taşı yenebilir. Birden fazla dairede rakibin taşını yemek için dolanılabılır. Bunda herhangi bir kısıtlama yoktur. Yani şekil 4'teki kırmızı taş bir hamlede ister bir tur dönüp rakibin taşını yer isterse birkaç tur dönerek başka bir taşı yer. Fakat dairede döndükten sonra mutlaka bir taşı yemesi gerekir. Aksi hâlde bu hamleyi yapamaz.



1. Yukarıdaki bilgi metninden,
- I. Surakarta tahtasında diğer oyunlarda bulunan kareler yoktur.
 - II. Taşlar geriye doğru hareket ettirilir.
 - III. Oyun, adını Fransa'daki bir şehirden almıştır.
 - IV. Oyuncu taşını dairede döndürmeden rakibin taşını yiyemez.

yargılarının hangileri çıkarılamaz?

A) I - III

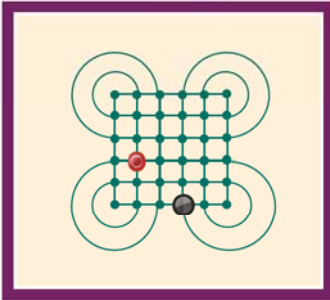
B) II - IV

C) I - IV

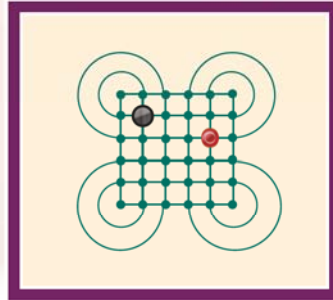
D) II - III

2. Verilen bilgilere göre aşağıdaki oyun pozisyonlarından hangisinde kırmızı taş rakibin taşını yiyemez?

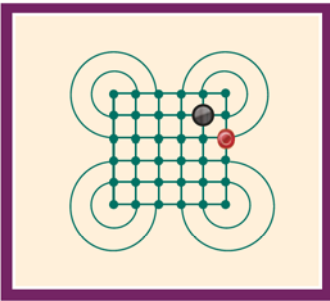
A)



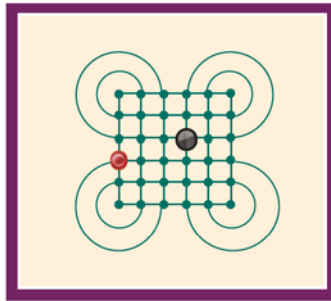
B)



C)

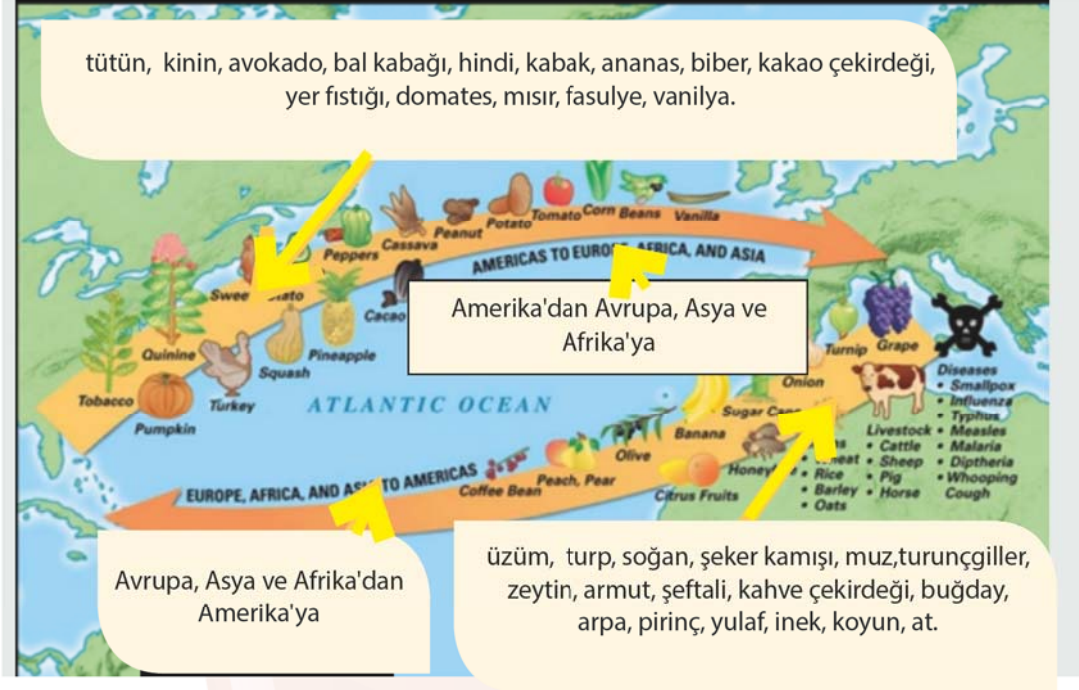


D)



3 - 4. soruları aşağıdaki bilgi metnine göre cevaplayınız.

Kolomb'un 1492'de Amerika kıtasını keşfetmesi sonrası keşfedilen yeni kıta "Yeni Dünya" olarak adlandırıldı. Avrupa, Asya ve Afrika ise "Eski Dünya" adıyla anıldı. Kolomb sonrası birçok gemi bu iki dünya arasında gitti, geldi. Birçok maceraperest Amerika kıtasına yerleşti. Bu keşfin en ilginç yönlerinden biri de eski ve yeni olarak adlandırılan bu kıtalar arasında yaşanan bitki ve hayvan değişimiydi. Bazı bitki ve hayvanlar Amerika kıtasında bulunmuyordu. Buna karşılık bu kıtada var olan bazı hayvan ve bitkiler de diğer kıtalarda ilk kez görülüyordu. Aşağıdaki görselde Amerika'nın keşfi sonrası bu kıtadan diğer kıtalara götürülen ve diğer kıtalardan Amerika'ya giden ürünleri görüyorsunuz.



3. Dursun Bey "14. Yüzyılda Dünya" adlı bir belgesel hazırlamaktadır. Yukarıdaki görseli incelediğinde çekmeyi planladığı bazı sahneleri değiştirmesi gerektiğini düşünmüştür.

Buna göre aşağıdakilerden hangisi Dursun Bey'in değiştirmeyi düşündüğü sahnelerden biri değildir?

- A) Amerika yerli kabilelerinden Apaçilerin reisi Oturan Boğa'nın bir savaş öncesi atının üzerinde kabile üyelerine yaptığı konuşma
- B) İngiltere Londra'da yılbaşı akşamında Smith ailesinin kümeslerindeki hindiyi ellerinden kaçırması
- C) Trabzon'da bir ailenin akşam yemeği için mısır ekmeğinin pişmesini beklemeleri
- D) Amerika kıtasında Azteklerin bir gölün ortasına kurdukları Tenoktitlan şehrinde kakao çekirdeklerinden çikolata yapmaları
4. Yukarıdaki görsel ve metne göre,
- I. Avakado üretiminde ilk sırada Kuzey Amerika kıtasındaki Meksika gelmektedir.
- II. Domates üretiminde ilk sırada Asya kıtasındaki Çin gelmektedir.
- III. Muz üretiminde ikinci sırada Güney Amerika kıtasındaki Brezilya gelmektedir.
- IV. Zeytin üretiminde ikinci sırada Avrupa kıtasındaki İtalya gelmektedir.

Yargılarından hangilerinde Kolomb takasının etkisi vardır?

- A) I - II B) III - IV C) II - III D) I - IV

ETNOSPOR KÜLTÜR FESTİVALİ BAŞLIYOR.

Dünya Etnospor Konfederasyonu tarafından organize edilen Etnospor Kültür Festivali'nin üçüncüsü, "At Binenin Kılıç Kuşananın" sloganıyla İstanbul'da başlıyor.

9 - 13 MAYIS
13 Spor dalında 883 sporcu mücadele edecek

<p>Kuşak Güreşi Özellikle Kırım Türkleri arasında yaygındır. Güreşçiler, bele sarılan iki metre uzunluğundaki özel dokuma kuşaklardan tutarak rakibin iki omzunun yere gelmesi şalka düşmesi için mücadele eder.</p>	<p>Kök Börü Anadolu'da "ödül kapmaca" olarak da bilinir. Amacı "şikâr" adı verilen oğlağı veya pöstekeyi kaparak, belirlenen oyun alanı içerisinde rakibinden kaçırmaktır.</p>	<p>Mangala Orta Asya'dan günümüze dek uzanan bir zeka ve strateji oyunudur. 2 kişi tarafından 48 taş ile oynanır. Sonunda en az 25 taş toplayan oyuncu, oyunun galibi olur.</p>
<p>Atlı Okçuluk Orta Asya'daki savaş ve av pratiklerine dayanır. Amaç 200 metrelik parkur üzerinde dört-nala giden bir atın üzerinden hedeflere ok ile isabet alarak puan kazanmaktır.</p>	<p>Atlı Cirit Türklerin oynadığı ata sporudur. At üzerinde süngü ve mızrağın düşmana daha iyi savrulması amacıyla ortaya çıkmış, zaman içerisinde kurallı bir oyun haline gelmiştir.</p>	<p>Aba Güreşi Orta Asya kökenli en eski güreş türlerinden biridir. Güreşçiler sırtlarına aba giyerek ve bellerine kuşak bağlayarak mücadele eder.</p>
<p>Yaya Okçuluğu Yayla gerili kirişe takılarak uzağa atılan, ucu sivri düzgün ince ve kısa çubuk yani ok ile hedefi vurma sporudur. Ateşli silahların keşfinden önce savaşlarda ve avcılıkta daha sonra da sportif maksatlarla kullanılmaktadır.</p>	<p>Şalvar Güreşi Güreşçiler, şalvar giyer ve ayakları çıplaktır. Kısa şalvar güreşinde tüm teknikler ayakta yapılır. Rakip alta düştüğü anda bir tek hamle şansı verilir. Bu hamle sonuç almaz ise genelde ayağa kaldırılır.</p>	<p>Aşık Oyunu Yüzyıllardır Türklerin yayıldığı tüm coğrafi bölgelerde devam ettirilen bir oyundur. Koyunların ve keçilerin arka bacaklarında bulunan dört yüzlü kemikle oynanır.</p>
<p>Yağlı Güreş Yağlı güreş geleneksel bir Türk sporudur. Güreşçiler vücutlarına yağ sürerek güreştikleri için bu şekilde adlandırılır. Müsabakalar "Er Meydanı" denilen alanlarda yapılır.</p>	<p>Mas Güreşi Mas güreşindeki yarışmacılar, en az 4 - 5 metre boyutlarında 60 cm yüksekliğinde sabit, düz ve kaygan olmayan bir platform üzerinde yarışırlar.</p>	<p>Şahin Yarışı Farklı kategorilerde yarışan şahinler 400 ile 800 metre uzaklıktaki avlarını görerek en kısa sürede ona ulaşmaya çalışıyor. Katar'ın milli oyunudur.</p>
<p>Yabusame Uzak Doğu'da at sırtındayken önceden belirlenmiş hedeflere ok atılarak yapılan etkinlik. Bu Japon sporunun geçmişi 12. yüzyıla kadar uzanır. Türkiye'deki atlı okçuluktan farklı özellikler ve kurallar içermektedir.</p>		

Yukarıdaki bilgi metninden,

- I. Festivaldeki oyunların hepsi Türklerin ata sporlarıdır.
- II. Festivalde saz şairleri de aşık atışması yapacaktır.
- III. Festivaldeki oyunların ağırlıklı bir kısmı atlı sporlar ve güreş çeşitlerinden oluşmaktadır.
- IV. Festivaldeki oyunların içinde zeka ve strateji oyunu da vardır.

yargılarından hangilerine ulaşılabilir?

- A) I ve II B) II ve III C) I ve IV D) III ve IV

Bu sorunun çözümünde 5. sorudaki bilgilerden de yararlanınız.

6.



Metin ve Ekrem etnospor alanına birlikte gelmiş fakat ilgi alanları farklı olduğu için ayrılmışlardır. Alandan ayrılma vakti geldiğinde şemada belirtilen noktada bulunan Metin, Ekrem'i telefonla aramış ve aralarında şu konuşma geçmiştir:

- Neredesin?
- Galiba kayboldum.
- Etrafında ne var?
- Bir oğlak postunu kapıp kaçmaya çalıştıkları bir yarışmayı izliyorum.
- Tamam, orada bekle, hemen geliyorum.

Yukarıdaki konuşmaya göre aşağıdakilerden hangisi Metin'in Ekrem'i bulmasını sağlar?

- Sağımda Etnospor müze çadırı solumda atlı cirit alanı... Yolun sonuna kadar ilerledim. Sola döndüm. Biraz ilerleyince ilk sokaktan sağa dönüp dümdüz ilerledim. Yolun sonunda Ekrem'in izlediği yarışmanın yapıldığı alana geldim.
- Solumda Etnospor müze çadırı sağımda atlı cirit alanı... Yolun sonuna kadar ilerledim. Sola döndüm. Biraz ilerleyince ilk sokaktan sağa dönüp dümdüz ilerledim. Yolun sonunda Ekrem'in izlediği yarışmanın yapıldığı alana geldim.
- Sağımda Etnospor müze çadırı solumda atlı cirit alanı... Yolun sonuna kadar ilerledim. Sağa döndüm. Biraz ilerleyince ilk sokaktan sola dönüp dümdüz ilerledim. Yolun sonunda Ekrem'in izlediği yarışmanın yapıldığı alana geldim.
- Solumda Etnospor müze çadırı sağımda atlı cirit alanı... Yolun sonuna kadar ilerledim. Sağa döndüm. Biraz ilerleyince ilk sokaktan sola dönüp dümdüz ilerledim. Yolun sonunda Ekrem'in izlediği yarışmanın yapıldığı alana geldim.

Türk Futbolunun Sinyoru: CAN BARTU (1936 - 2019)



Yukarıdaki bilgi metninden Can Bartu ile ilgili aşağıdakilerden hangisi çıkarılır?

- A) Glasgow Rangers forması giymiştir.
- B) Avrupa kupalarında final maçı oynayan tek Türk futbolcudur.
- C) Jübilesinde Galatasaray forması giymiştir.
- D) Fenerbahçe dışında başka bir takımda da oynamıştır.

8-9. soruları aşağıdaki bilgi metnine göre cevaplayınız.

MUHAMMED ALİ CLAY(1942 - 2016)

Muhammed Ali'nin Türkler için de ayrı bir önemi var. Çünkü Müslüman olan boksörü desteklemek adına ömründe boks müsabakası izlememiş birçok kişi Türkiye saatiyle sabaha karşı oynanan karşılaşmaları kaçırmamak için ekran başında yerini almıştı.

Müslüman olmadan önceki ismi Cassius Marcellus Clay Jr. olan Muhammed Ali, 17 Ocak 1942'de Kentucky Louisvill'de doğdu. Afro - Amerikan ve İrlanda kökenlidir. 12 yaşındayken boksla tanıştı ve kısa zaman içinde National AAU ve Altın Eldiven Şampiyonası'nda amatör kayıtlara girdi. Yine 1960'ta Roma'da ağır hafif siklette altın madalyayı alarak profesyonel lige döndü. 18 yaşındayken katıldığı Roma Olimpiyatları'nda altın madalya aldıktan sonra ünü giderek artmaya başladı

Bana iyi davranan ama garsona kaba olan birine güvenmiyorum ...



Profesyonel döneminde sadece 5 kez yenilen, Olimpiyat ve Dünya Şampiyonu olan Muhammed Ali 36 yaşına kadar bütün boks şampiyonaları içinde şampiyon olan tek isim olmayı başardı ve 37'si nakavtla olmak üzere 56 madalya kazandı.

1984 yılında 22 yaşındayken S. Listori'ü yenip Dünya Şampiyonu oldu. Bu zaferden sonra din değiştirip İslam dinine geçti ve Muhammed Ali ismini aldı. Maç öncesinde rakibinin moralini bozmak için makineli tüfek gibi konuşan Ali, çok sevdiği boksa ara verdi ama 1967'de boksa tekrar geri döndü. Vietnam'a savaşa gitmediği için cezalandırıldı ve boks yapması yasaklandı fakat sonra affedildi. 1974'te Foreman'ı 1978'de L. Spinks'ı yenip Dünya Şampiyonluğu unvanını geri aldı.

8. Yukarıdaki bilgi metninden Muhammed Ali'yle ilgili,
- Spor kariyerinde boks dışı etkenler de etkili olmuştur.
 - Boks sporunda insan psikolojisini kullanmıştır.
 - Dünya şampiyonu olduktan sonra bu unvanı kaybetmemiştir.
 - İslamiyeti seçmesi tüm dünyada olumlu yankı bulmuştur.

yargılarından hangileri çıkarılamaz?

A) I - II

B) III - IV

C) I - III

D) II - IV

9. Yukarıdaki şekildeki konuşma balonunun içinde boş bırakılan yere aşağıdaki cümlelerin hangisinin getirilmesi en uygundur?

- A) Çünkü ömrümü siyahlara yapılan ayrımcılığa karşı mücadeleyle geçirdim.
- B) Bu yüzden arkadaşlarımı seçerken çok zorlanıyorum.
- C) Çünkü o pozisyonda olsaydım bana da aynı şekilde davranırdı.
- D) Bu yüzden birçok arkadaşım beni kınamıştır.

10. Eve yorgun argın geldim. Hemen yatacağım. Babam öksüre öksüre odama geliyor. Bu öksürük hayra alamet değil. Galiba gene LGS hakkında konuşacak. Son günlerde okul takımının futbol maçlarına kendimi kaptırdım, ders çalışmıyorum.

- Alp, geçen hafta açıklanan örnek soruları çözdün mü?
- Geçen hafta örnek sorular mı yayımlandı?
- ...
- Tamam, tamam. Söylemiştin, unutmuşum. Söz, hafta sonu bakacağım.
- Alp, vurdumduymazlıkta zirveye çıktın, ne olacak bu işin sonu?

Yukarıdaki metinde geçen "vurdumduymazlıkta zirveye çıkmak" sözüyle anlatılmak istenen aşağıdakilerden hangisidir?

- A) Futbolla yatıp kalkma
- B) Babanın sözlerini duymama
- C) Anlayışsız hareketlerin fazlalığı
- D) Umursamaz tavırların çokluğu

11. Türkçe deyimler bakımından zengin bir dildir. Özellikle organ adlarıyla, insanların fizikî özellikleriyle kurulmuş onlarca deyim dilimizin zenginliğini yansıtır. Mesela kaş ile ilgili bir sürü deyimimiz vardır. Örneğin kaş ve gözle bir şeyler anlatmak, dikkat çekmek anlamında -----, kimsenin sezmesine imkân vermeyecek kadar kısa bir zaman içinde, çok çabuk anlamında -----, kızgın bir durumdayken kaş çatmak anlamında ----- deyimini kullanırız.

Aşağıdakilerden hangisi bu metinde boş bırakılan yerlerin herhangi birine getirilemez?

- A) Kaşını gözünü eğmek
- B) Kaş ile göz, gerisi söz
- C) Kaş göz işareti yapmak
- D) Kaşla göz arasında

12.

ARI IRKLARI VE ÖZELLİKLERİ



Özellik	African	Buckfast	Carniol	Kafkas	Cordovan	İtalian	Russian
Petekte Sakinlik	1	10	8	10	7	5	5
Savunma Davranışı	10	1	1	1	1	2	7
Erken Gelişim	10	8	10	6	5	8	10
İşbaşı	5	10	10	1	5	5	10
Bal Toplama	10	10	10	10	10	10	10
Bal Depolama	1	10	10	8	8	10	5
Nosema'ya Dayanıklılık	10	5	6	1	5	5	5
Polen Toplama	5	5	10	5	5	5	5
Propolis Toplama	5	5	2	10	5	5	5
Oğula Yatkınlık	10	2	5	2	5	5	9
Tracheal Mite Dayanıklılık	8	10	8	3	3	3	5
Varroa'ya Dayanıklılık	10	3	4	3	3	3	5
Kışı Atlatma	1	10	10	10	5	10	10

1 = Zayıf Beceri

10 = Yüksek Beceri

İzmir Tarım Müdürlüğü desteğiyle İzmir iline bağlı köylere yukarıdaki görselde özellikleri verilen arı türleri dağıtılmıştır. Dağıtılan arı türleri ve dağıtıldıkları köylerle ilgili bilinenler şunlardır:

Her köye farklı bir arı türünden yüzer arı kovani bırakılmıştır.

Yedi arı türünden üç arı türü dağıtılmamıştır.

Alacalar köyündeki arılar kışı atlatamamış ve hepsi ölmüştür.

Ovacık köyündeki arıcılar diğer köylere göre propolis satışında açık ara öndedirler.

Tırmanlar köyündeki arıcılar verilen arıların fazla çalışmadığından yakınmaktadır. Fakat Ovacık köyüne verilen arıların çalışmasını görünce "Neyse, buna şükür." demişlerdir. Hele de bal depolama yeteneklerini fark edince verilen arılara hayran kalmışlardır.

Alibeyli köyündeki arıcılar diğer köylere göre verilen arılar sayesinde polen satışında her köye fark atmıştır.

Buna göre aşağıdakilerden hangisinde söz konusu köylere dağıtılmayan arı türleri birlikte verilmiş olabilir?

A) Buckfast - Carniol - Russian

B) African - İtalian - Cordovan

C) Cordovan - Russian - Buckfast

D) Russian - Kafkas - İtalian

13 -15. soruları aşağıdaki bilgi metnine göre cevaplayınız.

Diriliş Ertuğrul Sona Eriyor



Ekranların sevilen dizisi Diriliş Ertuğrul 5. sezonunda 150. bölümüyle sona eriyor. Dizinin finali 29 Mayıs 2019'da ekranlarda olacak

10 aralık 2014 tarihinden beri yayımlanan dizide Ertuğrul Gazi öncülüğünde Türk obalarının kendi aralarında çekişmeleri, Anadolu'da Bizanslılar ve Moğollarla savaşları ele alınıyor.

Bu sezon 150. bölümüyle ekrana veda edecek olan dizinin yerine önümüzdeki sezonda Diriliş Osman dizinin geleceği konuşuluyor. Diriliş Osman olarak devam edecek dizide özellikle büyük bir hayran kitlesine ulaşan dizinin başrol oyuncularının da % 90'ının yenileneceği haberi, dizi takipçilerinin buruk bir sevinç yaşamasına neden oldu.

Selçuklular zamanındaki Kayı boyunun uç beyliğini anlatan dizi, zaman zaman tarihi gerçekleri tam yansıtmadığı eleştirilerini alsa da izlenme rekorları kırıyor.

Türk tarihindeki Ertuğrul Gazi, Hayme Ana, Tuğrul Bey gibi yaşamış karakterlerle Bamsı Beyrek gibi Dede korkut hikayelerinden esinlenmiş karakterleri potasında eriten dizi büyük bir hayran kitlesi yakaladı.

13. Yukarıdaki bilgi metninden,

- I. Dizi TRT ekranlarının en sevilen dizilerindedir.
- II. Dizideki Tuğrul Bey karakteri Selçuklu beylerinden Tuğrul Bey'in hayatını anlatmaktadır.
- III. Dizinin bazı yönleri beğenilmemektedir.

yargılarının hangileri kesin olarak çıkarılır?

- A) Yalnız I
- B) Yalnız III
- C) I ve II
- D) II ve III

14. Bilgi metninde aşağıdakilerden hangisine değinilmemiştir?

- A) Kaç sezon oynadığına
- B) Sezon başına kaç bölümün yayımlandığına
- C) Dizinin konusuna
- D) Başlıca karakterlere



15. Dizi takipçilerinin burukluğunun nedeni nedir?

- A) Dizinin bitiyor oluşu
- B) Dizi karakterlerinin birçoğunun değışecek olması
- C) Dizinin tarihi gerçekleri yansıtmaması
- D) Diriliş Osman'ın başarısız olacağı düşünülmesi

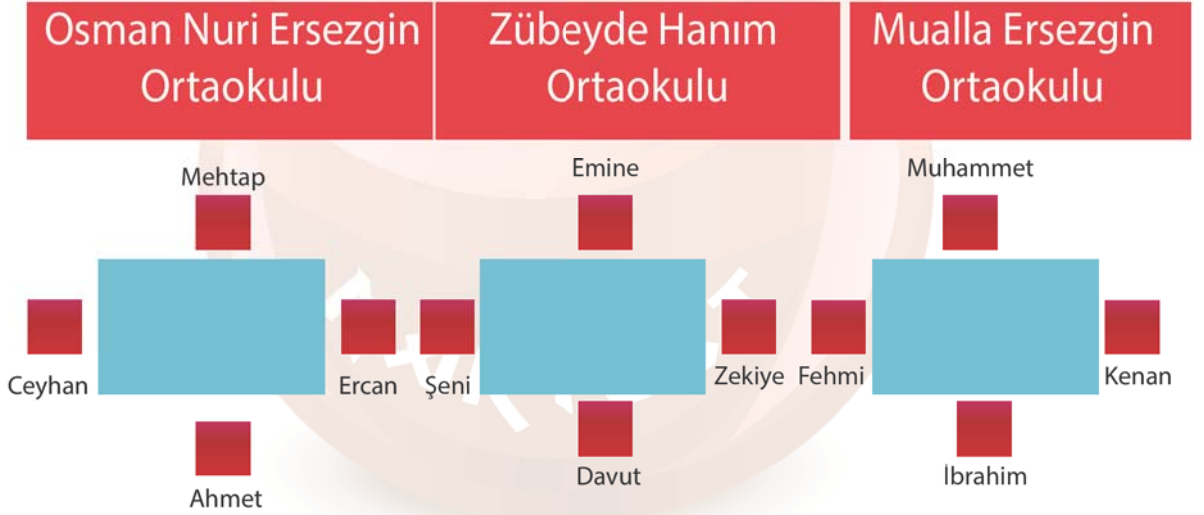


16. Kilimanjaro Afrika kıtasının zirvesi. 5895 m yüksekliğiyle dağcıların Afrika'da çıkabileceği en uç nokta. Sıcak ve kurak olarak akıllara kazınan bu kıtada Kilimanjaro'nun zirvesinde kar görmek insanda serap etkisi yapıyor. Ekvator'un üç enlem derecesi güneyinde olan bu dağ, her yıl 40 bin civarında turisti ağırılıyor. Dağın güney yamacında 2.500 m'ye kadar olan kısım sık yağmur ormanlarıyla kaplı. Bu ağaçların arasında Afrika menekşelerinin rengârenk çiçeklerini izlemek ayrı bir keyif. Bundan sonra 3.500 m'ye kadar olan kısımda da iğne yapraklı ağaçlar hâkim fakat gözleriniz artık Afrika menekşesi göremez. Bu ilginç ve güzel çiçeğin dağın kuzey yamacındaki dağılımı ise güneydekinin tam tersi. Ancak 3.500 m'den sonra görebiliyorsunuz bu çiçeği. Türkiye'den gelen dağcılık ekibi de Kilimanjaro Dağı'na tırmanışa geçmiştir. Tırmanışın üçüncü gününde 3.000 m'de kamp çadırlarını kurup gecelemişlerdir. Sabah doğan güneşle birlikte tırmanışa geçmişlerdir. Sağ yanlarından vuran güneş ışıklarını ısıtmıştır.

Verilen bilgilere göre tırmanış ekibinin kamp yaptıkları yer ve gördükleri manzara aşağıdakilerden hangisidir?

- A) Dağın güney yamacında, menekşeler arasında.
 B) Dağın güney yamacında, menekşeler yok.
 C) Dağın kuzey yamacında, menekşeler arasında.
 D) Dağın kuzey yamacında, menekşeler yok.

17.



Bergama İlçe Milli Eğitim Müdürlüğü ilçe genelinde okullardaki öğretmenlere iftar vermektedir. Yukarıdaki şekilde okulların ve öğretmenlerin bir kısmının şu andaki oturma düzeni verilmiştir. Bir süre sonra Osman Nuri Ersezgin ve Mualla Ersezgin okullarında çalışan öğretmenlerin birbirlerinin yerlerine oturduğu fark edilmiş ve iki okul öğretmenleri yer değiştirmiştir. Bu değişim yapılırken Osman Nuri Ersezgin Ortaokulu öğretmenleri şekilde verilen oturma düzenine göre saat yönünün tersine doğru ikişer sandalye, Mualla Ersezgin Ortaokulu öğretmenleri ise saat yönünde üçer sandalye yer değiştirmiştir.

Buna göre aşağıdakilerden hangisi doğrudur?

- A) Ceyhan'la Zekiye, Şeni'yle Muhammet sırt sırta oturmaktadır.
 B) Ercan'la Zekiye, Şeni'yle Kenan sırt sırta oturmaktadır.
 C) Ceyhan'la Zekiye, Şeni'yle Fehmi sırt sırta oturmaktadır.
 D) Ercan'la Zekiye, Şeni'yle İbrahim sırt sırta oturmaktadır.

NARTEST İŞLEYİŞ ŞEMASI



Yukarıdaki şemada Nartest Yayınevinin karar alma sürecinde geçerli olan işleyiş şeması verilmiştir.

Buna göre aşağıdakilerden hangisi çıkarılamaz?

- A) Nartest Türkçe ekibine ayrıcalık tanınmıştır.
- B) Çift başlı bir yönetim söz konusudur.
- C) Matematik ekibiyle İngilizce ekibi aynı kişiye bağlıdır.
- D) Halil Bey Türkçe ekibi dışında kalan ekiplerden sorumludur.

19. Bugüne kadar iki nüshası bilinen Dede Korkut Kitabı'nın üçüncü nüshası Türkistan'da bulundu. Biri Almanya'nın Dresden şehrinde diğeri Vatikan'da olan nüshaların sayısı Ege Üniversitesi Türk Dünyası Araştırmaları Enstitüsü Halk Bilimi Anabilim Dalı Başkanı Prof. Dr. Metin Ekici'nin ses getiren keşfiyle üçe çıktı. Prof. Dr. Metin Ekici, üçüncü nüshanın 12 hikaye (destan) içeren Dede Korkut Kitabı'nın 13. destanını da içerdiğini söyledi. Prof. Dr. Metin Ekici, sempozyumda yaptığı sunumda Dede Korkut'un 3. nüshasına ait sayfaların fotoğraflarını da paylaştı. Ekici, metnin 14-16. yüzyıl arasında yazıya geçirildiğini tahmin ettiklerini o günden bugüne şahıslar eliyle veraset yoluyla bugünkü sahiplerine intikal ettiğini söyledi. Dede Korkut Hikayeleri'nin Almanya'nın Dresden ve Vatikan'da bulunan nüshalarının 15. yüzyılda yazıya aktarıldığı biliniyor. Üçüncü nüsha, 14. yüzyılda yazıldığı kesinlik kazanırsa en eski Dede Korkut kitabı olacak.

Yukarıdaki metinden aşağıdaki yargıların hangisine ulaşılır?

- A) Yeni bulunan nüsha bilinen nüshalar içinde en eskisidir.
- B) Bulunan nüshanın içeriği eldeki nüshalarla aynıdır.
- C) Dede Korkut'un bulunan ilk nüshası Vatikan'dadır.
- D) Metinde anlatılan nüshaların hiçbiri Türkiye'de değildir.

Alex ve Deivid de Souza ANONİM ŞİRKETİ

Fenerbahçe tarihine damga vuran futbolcuların başında Alex de Souza gelmektedir. Özellikle Avrupa Şampiyonlar Ligi'nde 2 Nisan 2008'de oynanan maç birçok Fenerbahçe taraftarının zihnine kazınmıştır. Teknik direktör Zico yönetiminde futbolculardan Alex ve Deivid'in muhteşem uyumuyla Fenerbahçe Chelsea'yi 2 - 1 yenmiştir. Bu maçta 11. dakikada kendi kalesine bir gol atan Deivid de Souza karşılaşmanın 81. dakikasında yaklaşık 30 m'den attığı harika golle kendini affettirmiştir.



DEĞİŞİM	
54	Colin Kazim-Richards
54	Ugur Boral
72	Semih Sentürk
72	Mateja Kezman
76	John Mikel Obi
76	Frank Lampard
86	Nicolas Anelka
86	Joe Cole

Fenerbahçe'nin
Chelsea maçına
başladığı ilk 11

Maçtaki oyuncu
değişiklikleri

Yukarıdaki bilgi metnine göre aşağıdakilerden hangisi Deivid de Souza'nın attığı golün sunucu tarafından anlatımıdır?

- A) Alex yanındaki Aurelio'ya pasını verdi. Aurelio topu boş pozisyondaki Uğur Boral'a yuvarlıyor. Uğur topa ilerliyor. İlk rakibini geçti, yanındaki Deivid'le oynadı. Deivid kaleye baktı, uzak bir mesafe. Şutunu çektik ve gol.
- B) Kezman topa ilerliyor. Sağında Alex'i gördü. Alex hiç bekletmeden boştaki Deivid'le oynadı. Deivid kaleye baktı. Uzak bir mesafe. Şutunu çektik ve gol.
- C) Semih topu kaptırdı. Ani bir Chelsea atağı gelebilir. Topu kapan Frank Lampard Maldonado'yu geçti. Fakat Aurelio topu çalıyor. Uzun bir pasla Deivid'i topa buluşturdu. Deivid kaleye baktı. Uzak bir mesafe. Şutunu çektik ve gol.
- D) Semih topa buluştu. Birinci rakibinden sıyrıldı, karşısına John Obi Mikel gelince geriye dönmek zorunda kaldı. Maldonado topa ilerliyor. Önündeki Deivid'le oynadı. Deivid kaleye baktı, uzak bir mesafe. Şutunu çektik ve gol.

CEVAPLAR İÇİN BU LİNKİ KULLANINIZ.

www.nartest.com.tr/tr/content/11-dokumanlar

NARTEST

8. SINIF | ALTIN SORULAR CEVAP ANAHTARI

T.C. İNKILAP TARİHİ VE ATATÜRKÇÜLÜK 1. DENEME									
1	2	3	4	5	6	7	8	9	10
B	B	D	D	C	B	C	A	C	C

DİN KÜLTÜRÜ VE AHLAK BİLGİSİ 1. DENEME									
1	2	3	4	5	6	7	8	9	10
C	D	A	D	C	D	B	A	B	B

T.C. İNKILAP TARİHİ VE ATATÜRKÇÜLÜK 2. DENEME									
1	2	3	4	5	6	7	8	9	10
D	C	B	D	A	C	B	A	D	D

DİN KÜLTÜRÜ VE AHLAK BİLGİSİ 2. DENEME									
1	2	3	4	5	6	7	8	9	10
D	B	A	B	D	B	A	C	A	C

T.C. İNKILAP TARİHİ VE ATATÜRKÇÜLÜK 3. DENEME									
1	2	3	4	5	6	7	8	9	10
A	D	B	B	B	C	C	C	A	C

DİN KÜLTÜRÜ VE AHLAK BİLGİSİ 3. DENEME									
1	2	3	4	5	6	7	8	9	10
B	A	C	C	A	B	D	B	D	A

T.C. İNKILAP TARİHİ VE ATATÜRKÇÜLÜK 4. DENEME									
1	2	3	4	5	6	7	8	9	10
D	C	D	C	A	D	D	D	B	A

DİN KÜLTÜRÜ VE AHLAK BİLGİSİ 4. DENEME									
1	2	3	4	5	6	7	8	9	10
C	D	B	A	A	B	D	C	C	A

T.C. İNKILAP TARİHİ VE ATATÜRKÇÜLÜK 5. DENEME									
1	2	3	4	5	6	7	8	9	10

İNGİLİZCE 1. DENEME									
1	2	3	4	5	6	7	8	9	10
C	A	B	D	C	A	C	B	C	A

T.C. İNKILAP TARİHİ VE ATATÜRKÇÜLÜK 6. DENEME									
1	2	3	4	5	6	7	8	9	10

İNGİLİZCE 2. DENEME									
1	2	3	4	5	6	7	8	9	10
C	B	D	A	B	C	D	D	A	B

TÜRKÇE 1. DENEME									
1	2	3	4	5	6	7	8	9	10
B	A	C	D	C	D	D	C	A	B
11	12	13	14	15	16	17	18	19	20
A	A	A	C	B	D	C	C	D	C

TÜRKÇE 3. DENEME									
1	2	3	4	5	6	7	8	9	10
D	A	D	C	D	A	D	C	C	A
11	12	13	14	15	16	17	18	19	20
A	B	D	D	D	C	A	D	A	D

TÜRKÇE 2. DENEME									
1	2	3	4	5	6	7	8	9	10
A	C	D	C	D	C	D	B	C	D
11	12	13	14	15	16	17	18	19	20
B	C	B	B	B	A	D	B	D	D



8. SINIF | ALTIN SORULAR CEVAP ANAHTARI

MATEMATİK 1. DENEME									
1	2	3	4	5	6	7	8	9	10
C	C	B	A	C	D	C	B	B	C
11	12	13	14	15	16	17	18	19	20
B	C	B	C	B	B	B	C	D	D

FEN BİLİMLERİ 1. DENEME									
1	2	3	4	5	6	7	8	9	10
D	C	B	B	C	C	B	B	C	D
11	12	13	14	15	16	17	18	19	20
C	B	A	D	A	A	D	A	C	A

MATEMATİK 2. DENEME									
1	2	3	4	5	6	7	8	9	10
C	D	A	C	B	C	A	B	C	C
11	12	13	14	15	16	17	18	19	20
B	D	D	B	A	B	C	D	B	C

FEN BİLİMLERİ 2. DENEME									
1	2	3	4	5	6	7	8	9	10
D	D	A	D	D	B	B	D	D	B
11	12	13	14	15	16	17	18	19	20
B	C	B	D	D	B	C	C	D	D

MATEMATİK 3. DENEME									
1	2	3	4	5	6	7	8	9	10
B	D	C	D	B	C	B	B	B	D
11	12	13	14	15	16	17	18	19	20
D	C	B	B	C	C	B	B	D	A

MATEMATİK 4. DENEME									
1	2	3	4	5	6	7	8	9	10
C	B	B	B	B	C	C	A	B	B
11	12	13	14	15	16	17	18	19	20
	A	A	C	C		D	C	B	D